

اللَّهُمَّ صَلِّ وَسَلِّمْ وَبَارِكْ عَلَى سَيِّدِنَا مُحَمَّدٍ

کتاب کار ریاضی سوم ابتدایی

مؤلف :

کیمیا رضایی پور

انتشارات ارسطو

(سازمان چاپ و نشر ایران - ۱۴۰۲)

نسخه الکترونیکی این اثر در سایت سازمان چاپ و نشر ایران و اپلیکیشن کتاب رسان موجود می باشد

chaponashr.ir

سرشناسه: رضایی پور، کیمیا، ۱۳۷۹
عنوان و نام پدیدآور: کتاب کار ریاضی سوم ابتدایی / مولف کیمیا رضایی پور.
مشخصات نشر: انتشارات ارسطو (سازمان چاپ و نشر ایران)، ۱۴۰۳.
مشخصات ظاهری: ۱۸۵ ص.
شابک: ۹۷۸-۶۲۲-۴۰۸-۳۲۸-۹
وضعیت فهرست نویسی: فیبا
موضوع: ریاضیات - پایه سوم ابتدایی
رده بندی کنگره: LB۱۵۲۶/۴
رده بندی دیویی: ۳۷۱/۳۰۲۸۷
شماره کتابشناسی ملی: ۹۷۰۳۲۴۳
اطلاعات رکورد کتابشناسی: فیبا

نام کتاب: کتاب کار ریاضی سوم ابتدایی
مولف: کیمیا رضایی پور
ناشر: انتشارات ارسطو (سازمان چاپ و نشر ایران)
صفحه آرای، تنظیم و طرح جلد: پروانه مهاجر
تیراژ: ۱۰۰۰ جلد
نوبت چاپ: اول - ۱۴۰۳
چاپ: زیر جلد
قیمت: ۱۸۵۰۰۰ تومان
فروش نسخه الکترونیکی - کتاب رسان:
<https://chaponashr.ir/ketabresan>
شابک: ۹۷۸-۶۲۲-۴۰۸-۳۲۸-۹
تلفن مرکز بخش: ۰۹۱۲۰۲۳۹۲۵۵
www.chaponashr.ir



خدای ما خدای فرصت دوباره است،
او هیچ وقت از کسی دست نمی کشد.
موفقیت مجموعه ی تلاش های کوچک است، که
روزانه و روزانه تکرار می شود.

فهرست

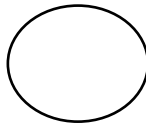
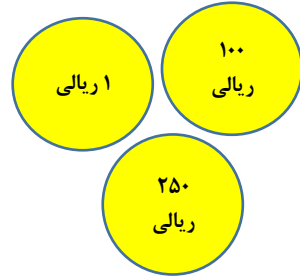
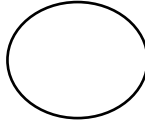
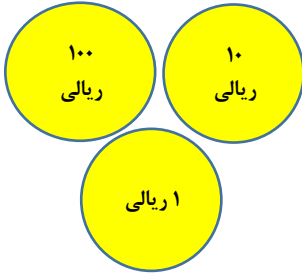
در آغاز هر فصل نکات آموزشی هر درس در قالب
ایستگاه یادگیری آمده است.

فصل پنجم: محیط و مساحت	آزمون ورودی
تمرین ها ۱۰۵	فصل اول: الگوها
ارزشیابی ۱۱۸	تمرین ها ۱۸
فصل ششم: جمع و تفریق	ارزشیابی ۳۵
تمرین ها ۱۲۱	فصل دوم: عددهای چهاررقمی
ارزشیابی ۱۴۱	تمرین ها ۳۹
ارزشیابی میان نوبت دوم	ارزشیابی ۵۷
فصل هفتم: آمار و احتمال	ارزشیابی میان نوبت اول
تمرین ها ۱۴۷	فصل سوم: عددهای کسری
ارزشیابی ۱۶۱	تمرین ها ۶۳
فصل هشتم: ضرب عددها	ارزشیابی ۷۹
تمرین ها ۱۶۵	فصل چهارم: ضرب و تقسیم
ارزشیابی ۱۷۸	تمرین ها ۸۳
ارزشیابی های پایانی	ارزشیابی ۹۶
ارزشیابی پایانی ۱ ۱۸۰	ارزشیابی نوبت اول
ارزشیابی پایانی ۲ ۱۸۳	ارزشیابی نوبت اول ۱ ۹۹
	ارزشیابی نوبت اول ۲ ۱۰۱

آزمون ورودی
پایه سوم

نمونه سوال ارزشیابی آغازین درس ریاضی

۱- در جای خالی علامت $<=>$ بگذارید.



۲- اگر مادرت به تو ۵ سکه ی ۱۰ ریالی و ۲ سکه ی ۱۰۰ ریالی و ۱ سکه ی ۵۰۰ ریالی بدهد، تو چند ریال پول داری؟
ریال

۳- ۲۳۵ ریال را با شکل نشان بده و بنویس از چند سکه استفاده کردی؟

.....سکه ی ۱۰۰ ریالی

..... سکه ی ۱۰ ریالی

.....سکه ی ۱ ریالی

۴- اعداد زیر را به صورت گسترده بنویس.

۳۰۴

۹۸۷

۲۱۵

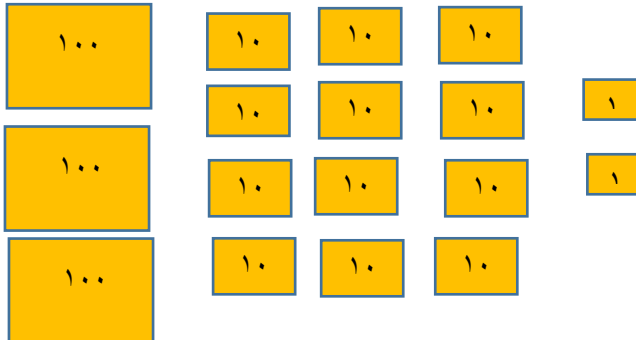
۴۷۱

۵- جمع زیر را انجام دهید.

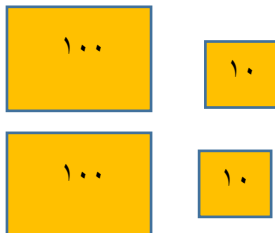
۳۵۷

+۱۳۲

۶- با توجه به شکل اعداد ۳ رقمی را بنویس.



۷- با توجه به شکل مقابل کدام گزینه درست است؟



۴۰۰ (۲)

۳۸۰ (۱)

۲۲۰ (۴)

۳۰۸ (۳)

۱۲- اعداد زیر را با حذف رقم یکان و دهگان، به صورت تقریبی بنویس.

۵۰۳

۹۴۷

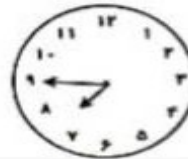

۱۴۵

۱۸۴

۱۳- کدام ساعت ۱۰ دقیقه مانده به ۹ را نشان می دهد.



۱۴- با توجه به شکل ساعت ها، جاهای خالی را کامل کن.



..... :

..... :

..... دقیقه به

..... دقیقه به

۱۵- ساعت ۷:۳۰ را روی ساعت نشان بده.

ساعت و دقیقه

یا

